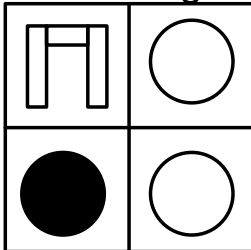



Welche Abbildung passt nicht zu den anderen?

In jeder Zeile befinden sich 4 Abbildungen. Davon sind 3 Abbildungen identisch und nur unterschiedlich gedreht. Findest Du jeweils die 1 Abbildung, die nicht zu den anderen passt?

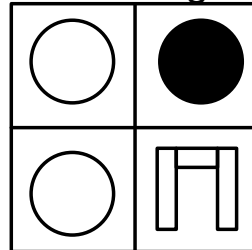
Abbildungung 1



Abbildungung 2



Abbildungung 3



Abbildungung 4

