


Welche Fläche ist am größten?

Bitte ordnen Sie die Flächen nach ihrer Größe. Fangen Sie mit der kleinsten Fläche an.


Beispiel:

Beispiel: Ordnen Sie bitte die Flächen aufsteigend nach ihrer Größe.
Reihenfolge Lösung:



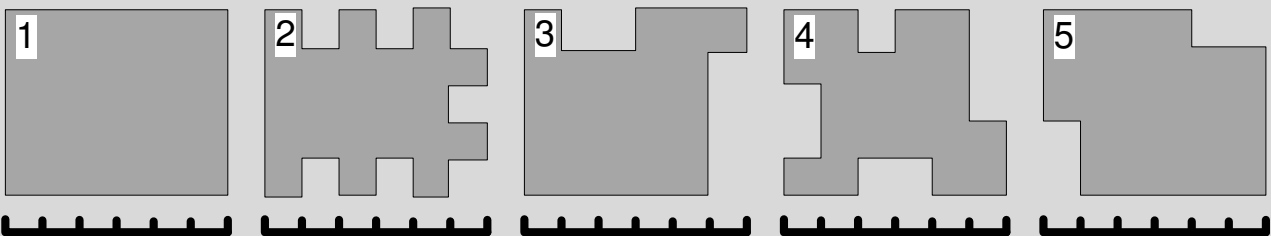
Aufgabe 1:

Ordnen Sie bitte die Flächen aufsteigend nach ihrer Größe.
Reihenfolge:



Aufgabe 2:

Ordnen Sie bitte die Flächen aufsteigend nach ihrer Größe.
Reihenfolge:



Aufgabe 3:

Welche Flächen sind gleich groß?
Fläche und

